

École : Classe :

Prénom et Nom :

LANGUE ET COMMUNICATION

CONTRÔLE DES RESSOURCES (40 pts)

Contexte : Voici un texte

<p>Ingrédients :</p> <ol style="list-style-type: none"> 1) 500g de pain de singe « bouye » 2) 250g de sucre en poudre 3) Essence de banane 4) 250ml de lait 5) 2l d'eau 	<p>Matériel :</p> <p>Une cuillère à soupe Une carafe Six verres Un filtre</p>	<p>Préparation :</p> <ol style="list-style-type: none"> 1. Macérer le pain de singe pendant 20mn dans l'eau tiède 2. Malaxer avec les mains propres 3. Filtrer afin de séparer le jus des noix 4. Ajouter le sucre, le lait puis l'essence de banane pour parfumer. 5. Mélanger le tout 6. Servir dans des verres avec des glaçons
--	---	---

1. C'est quel type de texte ? (2pts).....
2. Entoure le titre qui convient : (2pts)
 La vente de jus le jus de bissap la recette de jus de « bouye »
3. Réponds par vrai ou faux
 Les fruits de « bouye » doivent être trempés dans de l'eau chaude (2pts).....
 La préparation du jus demande de l'essence de banane (2pts):

4. Cite deux homonymes de « verre » (4pts):
5. Entoure le bon synonyme de chacun des mots ci-dessous : (4pts)

Macérer : cuisiner tremper mâcher
Malaxer : manger modeler mélanger

6. Donne un mot de la même famille que « glaçon » (2pts):.....
7. Donne la nature et la fonction des mots soulignés dans le texte (6pts)

Le pain de singe :

Tiède :

Banane :

8. Mets cette phrase à la forme interrogative (2pts): « Maman malaxe le pain de singe. »

9. Conjugue les verbes de ces phrases à la 2^{ème} personne du singulier de l'impératif présent (6pts)

1/ Malaxer avec les mains :

2/ Remplir le verre de jus :

3/ Servir avec des glaçons :

10. Les mots soulignés renferment des fautes. Corrige-les dans les parenthèses. (6pts)
 L'orage est passé. On n'entendais (.....) plus que quelques lointains roulements de tonnerre. Les feuiles (.....) luisantes des grands arbres laissaient tomber des gouttes qui faisaient trembler les fougères venues à l'onbre (.....).

École : Classe :

Prénom et Nom :

MATHEMATIQUES
CONTRÔLE DES RESSOURCES (40 pts)

Activités numériques : (12 pts)


1. Un nombre décimal comprend deux parties. Lesquelles ? : (4 pts)
2. Dans une salle de cinéma on compte 240 places occupées, soit les $\frac{3}{4}$ du nombre total de places.
Trouve le nombre total de places (4pts)
.....
3. Encadre le bon résultat (4pts) : $3579,58 - 98,09 =$ **3481,49 ; 3418,94 ; 3448,49**

ACTIVITES DE MESURE (9pts)

1. Un champ rectangulaire a 580m de périmètre. Calcule sa longueur si sa largeur mesure 130m (4pts)
.....
.....
.....
2. Effectue : $225l - 19dal\ 35\ l =$
..... (5pts)

ACTIVITES GEOMETRIQUES (10pts)

1. Je suis un quadrilatère qui a des cotés égaux deux à deux et qui n'a pas d'angles droits. Que suis-je?
Je suis (3pts)
2. Construis un triangle équilatéral dans l'encadré (7pts). (Tu dois utiliser le compas)



RESOLUTION DE PROBLEMES (9pts)

Un ouvrier gagne 175 000F par mois. Il achète trois sacs de riz à 14250F le sac et donne 35750F à sa famille.

Complète l'énoncé par trois questions.

- 1).....
- 2).....
- 3).....

École : Classe :

Prénom et Nom :

EDUCATION A LA SCIENCE ET A LA VIE SOCIALE
DECOUVERTE DU MONDE

Ressources : (24 pts)

Histoire : 8 pts

1. Donne un résistant armé et un résistant pacifique du Sénégal. (2pts) :

..... -

2. Relie chaque fait historique à la date de production (6pts)

Mort de Lat Dior DIOP 1920

Naissance d’Aline Sitoé DIATTA 1960

Indépendance du Sénégal 1886

Géographie : (8 pts)

1. Quels sont les 3 facteurs qui déterminent le climat d’un pays ? (3 pts)

.....

2. Nomme les pays qui ont une frontière avec le Sénégal (5pts).

.....

.....

IST : (8 pts)

1. Les abreuvoirs du poulailler commencent à prendre de la rouille. Donne 3 méthodes de protection du fer contre la rouille. (6 pts)

.....

.....

Qu’est-ce qu’une combustion vive (2pts) ?

.....

Compétence (16 pts dont 2 pts pour la présentation)

Contexte :

Voici une liste d’organes du corps humain : les fosses nasales – l’estomac– les poumons – les bronches – le pancréas – les artères – le cœur.

Consigne :

Complète le tableau ci-dessous en faisant correspondre les organes à leur appareil.

Appareils	Organes
Respiratoire	
Digestif	
Circulatoire	

EDUCATION AU DEVELOPPEMENT DURABLE

CONTRÔLE DES RESSOURCES (24 pts)

VIVRE ENSEMBLE : (12pts)

1. Identifie deux problèmes et deux solutions nés de la divergence d’opinion puis complète le tableau.

(8pts)

Problèmes	Solutions
1-	1-
2-	2-

2. Définis le sigle du SIDA **(4pts)**

.....

VIVRE DANS SON MILIEU : (12 pts)

1. Voici une liste de maladies : **le choléra- l’asthme-la bronchite-la pneumonie-la dysenterie-la fièvre typhoïde**. Classe-les dans le tableau suivant : **(6pts)**

Maladies respiratoires	Maladies diarrhéiques
.....
.....
.....

2. Propose deux modes de gestion des déchets ménagers (6pts)

.....

COMPETENCE : (16pts)

Contexte :

Une femme enceinte n’a jamais fait de visite prénatale. Elle a accouché à domicile. C’est une vieille dame qui a coupé le cordon ombilical du bébé avec son vieux couteau. Juste à la veille du baptême, le bébé tomba malade. Son corps était raide, sa température élevée. De quelle maladie souffrait le bébé ?

Consigne : Remplis le tableau:

Maladie de bébé	Microbe responsable	2 mesures préventives
.....

École : Classe :

Prénom et Nom :

ART PLASTIQUE 10 pts

Dessine une volaille (oiseau, pigeon, poule, coq, canard, pintade, dinde etc...)

École : Classe :

Prénom et Nom :

LANGUE ET COMMUNICATION

LECTURE

FLUIDITE 10pts

(100 mots à lire en 2 mn ou 50 mots en 1 mn = 10pts)

En revenant du marché, les ménagères discutent de la campagne de vaccination qui vient de débiter.

Prenant la parole la première, Nogaye lança une intéressante conversation.

- J'ai décidé de ne pas faire vacciner ma fille, lança-t-elle.
- Et pourquoi donc, chère amie, lui demanda Satou ?
- J'ai entendu dire que les vaccins peuvent empêcher les enfants de bien grandir, rétorqua Nogaye.
- C'est totalement faux ! Au contraire, les vaccins protègent les enfants contre les maladies graves et nous permettent de dépenser moins d'argent pour leur santé.
- Tu as raison, j'irai dès demain vacciner Soda, décida Nogaye.

TSQ 30 pts

Lis le texte et réponds aux questions qui te sont posées.

Aujourd'hui, c'est un dimanche ; comme les enfants ne vont pas à l'école, Sidi et Abdou se trouvent chez leur camarade Ansou.

- Allons jouer au ballon, propose Sidi.
- Non, nous devons apprendre nos leçons, répond Ansou.
- Effectivement nous devons nous préparer pour les prochaines compositions, ajoute Abdou.
- Vous êtes devenus sages maintenant ! s'exclame Sidi.
- Oui tu as raison, les études avant tout, dit Abdou .

I- PREMIERE PARTIE : Compréhension du texte.

Exercice 1 : Entoure VRAI ou FAUX devant les affirmations suivantes. **(6 points)**

Abdou propose à ses amis de jouer au football : VRAI / FAUX

Abdou n'aime pas les études : VRAI / FAUX

Il y'a quatre interlocuteurs dans le texte : VRAI / FAUX

Exercice 2 : Encadre la bonne réponse : **(2 points)**

C'est un texte : Narratif - Descriptif - Dialogué

II- DEUXIEME PARTIE : Contrôle des connaissances

Exercice 3 : Trouve : **(6 points)**

Un homonyme de : mère

Un synonyme de : camarade

Un contraire de : rapidement

École : Classe :

Prénom et Nom :

MATHEMATIQUES

ACTIVITES NUMERIQUES 10 pts (2,5pts x 4)

- 1. Pose et effectue.
- 67835 + 25789=
- 92320 – 54726 =
- 2759 X 43 =
- 17870 : 6 =

--	--	--	--

ACTIVITES DE MESURE 10 pts

Un champ rectangulaire mesure 6 dam de long et 40 m de large.

- Calcule son périmètre en mètres (m)

.....
.....
.....
.....
.....
.....
.....

ACTIVITES DE GEOMETRIE/10 pts

Je construis un cercle et je trace son diamètre.

--

RESOLUTION DE PROBLEME/10 pts

Contexte : Voici un problème déjà résolu

- Le prix des chaussures est de : $5000F \times 4 = 20\ 000F$
- Le prix des 10m de tissu est de : $2500F \times 10 = 25000F$
- La dépense totale : $20000F + 25000F = 45000F$

Consigne : Rédige l'énoncé.

.....
.....
.....
.....
.....
.....
.....

École : Classe :

Prénom et Nom :

EDUCATION À LA SCIENCE ET À LA VIE SOCIALE

DECOUVERTE DU MONDE : Contrôle des ressources (10pts)

HISTOIRE/03 pts

Complète le tableau ci-dessous:

Royaume	Capitale	Titre
Djolof
.....	Nder
Sine

GEOGRAPHIE/04 pts

Relie par une flèche chaque animal à son espèce

Chèvre	Bovin
Mouton	Caprin
Ane	Ovin
Vache	Equin

IST/ 03ptspts

Relie chaque objet technologique à son utilité.

Vélo	communiquer
Portable	se déplacer
Lampe tempête	éclairer
Fer à repasser	

DECOUVERTE DU MONDE : COMPETENCE 10 pts

Une compétition de génies en herbe se prépare dans ton école et tu veux y participer.

Consigne : complète le tableau

ANIMAUX	Mode de locomotion	Mode de reproduction	Régime alimentaire
poisson			
oiseau			
vache			

EDUCATION AU DEVELOPPEMENT DURABLE : Contrôle des ressources (10pts)

VIVRE DANS SON MILIEU/5pts

Je complète par érosion éolienne et érosion hydrique.

L'.....est causée par de fortes pluies. (2pts)

L'.....est causée par des vents forts et violents. (2pts)

L'.....est causée par les vagues. (1 pt)

VIVRE ENSEMBLE /5pts

Après un match de football,deux supporters se battent à cause de la décision finale de l'arbitre.

Pour les réconcilier,donne leur deux idéaux de paix.

1..... (2,5 pts)

2..... (2,5 pts)

EDUCATION AU DEVELOPPEMENT DURABLE : COMPETENCE 10pts

Contexte: tu veux sensibiliser les population de ton quartier sur les dangers des formes de dégradation de ton milieu.

Consigne:complète le tableau

Formes de dégradation	2 causes	1 Conséquence	2 solutions
déforestation
pollution

ARTS PLASTIQUES/10pts

Je dessine une plante avec ses fleurs.

École : Classe :

Prénom et Nom :

LANGUE ET COMMUNICATION

Lecture / Fluidité : 10 pts

Consigne : lis ce texte en minute

Réparatifs pour la fête

Notre école prépare la journée de l'excellence. La veille, les élèves font leurs achats et nettoient les salles de classe et la cour de l'école. Les enseignants aident les élèves dans leurs tâches. Tout est fin prêt pour accueillir les invités.

TSQ : 30 pts

Croquettes d'arachide	
Les ingrédients	La préparation
Pour préparer des croquettes d'arachide sucrées il faut prendre : 500g de bonnes graines d'arachide 350g de sucre 5 sachets de sucre vanillé 2 pincées de sel	1. Verse deux verres d'eau dans la marmite. 2. Ajoute le sucre et le sel. 3. Mets au feu et laisse bouillir pendant 5 minutes environ. 4. Verse les graines d'arachide. 5. Remue le contenu et surveille le bien. 6. Eteins le feu dès que les graines commencent à sécher. 7. Laisse refroidir dans un plat.

Compréhension 8 pts

1. C'est un texte
2. Donne deux ingrédients servant à préparer les croquettes d'arachide sucrées.

.....

3. Quand faut-il arrêter la cuisson ?

.....

Vocabulaire 6pts

1. Donne le contraire de refroidir.
2. Encadre les mots de la même famille : préparer- sucre- graine –préparation-plat - sucrée.
3. Souligne la bonne définition : **Une pincée de sel** C'est beaucoup de sel- C'est un peu de sel- Ce n'est pas du sel.

École : Classe :

Prénom et Nom :

MATHEMATIQUES :

A/ CONTROLE DES RESSOURCES (40points – DUREE 60mn)

Activités numériques: (10points)

Exercice 1 : Ecris en lettres ou en chiffre les nombres suivants : (1pt x 2)

- Mille deux cents :
- 2054 :

Exercice 2 : pose et effectue les opérations suivantes (2pts x 4)

$2715 + 846 =$; $4074 - 596 =$; $245 \times 3 =$ $846 : 2 =$

Activités géométriques (10points)

Construis un carré de 4 cm de côté et trace les diagonales.

Activités de mesure : (10points)

Exercice 1 : Convertis et calcule (2,5 pts x 2)

$25 \text{ g} = \dots\dots\dots \text{cg}$ $8\text{hg} + 20\text{dag} = \dots\dots\dots \text{g}$

Exercice 2: (2,5 pts x 2)

Complète:

Une semaine =jours ; Un mois =semaines.

Résolutions de problèmes : (10points) 5pts x 2

Contexte : Nafi achète 5 bouteilles de jus à 125f la bouteille et 4 sachets de bonbons à 150f l'un.

Calcule la somme totale dépensée.

Consigne : Trouve les questions intermédiaires

.....
.....

B/ **CONROLE DE LA MAITRISE DE LA COMPETENCE** :(20points) :

Contexte : Le matin, maman achète 5kg de riz à 1500F. Le soir elle achète 2kg de riz à 600F.

Consigne : Calcule

1 Le nombre de kg de riz acheté.

2 La somme totale dépensée.

Raisonnement	Opérations

École : Classe :

Prénom et Nom :

EDUCATION A LA SCIENCE ET A LA VIE SOCIALE
DECOUVERTE DU MONDE : 20 pts

A) RESSOURCES:

IST: 4pts

Contexte : ton père veut élever des animaux herbivores on te propose la liste suivante :

Chat - chien - mouton - vache-chèvre-canard-cheval-lion

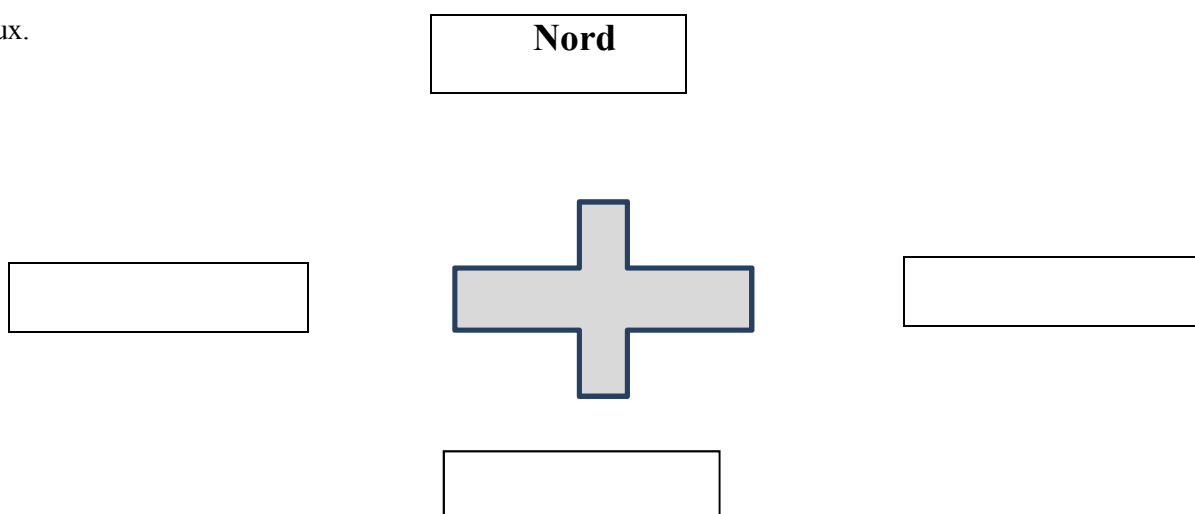
Consigne : Fais- lui des propositions en entourant le nom des animaux herbivores.

GEORGAPHIE : (3 points soit 1 pt /réponse juste)

Contexte : Ton camarade n'arrive pas à s'orienter sur le plan de la classe. Il te demande de l'aider.

Consigne : Aide- le en complétant les
cardinaux.

étiquettes pour indiquer les points



Histoire : 3 pts

Complète par : *aujourd'hui* *demain* *hier* (4pts)

-Le passé, c'est tout ce qui s'est déroulé..... (1pt)

-Le présent, c'est tout ce qui se passe..... (1pt)

-Le futur, c'est tout ce qui se passera..... (1pt)

B) COMPETENCE DECOUVERTE DU MONDE 10 pts

Contexte : Tu es perdu(e) en pleine brousse pendant le jour. Voilà plusieurs éléments : un bâton, un bidon, une boussole et le soleil.

Consigne : Relève les objets qui te permettent de t'orienter.

.....

EDUCATION AU DEVELOPPEMENT DURABLE 20 pts

I/Vivre ensemble : 5 pts

1/Contrôle des ressources

Exercice1 : Je mets une croix devant le bon comportement : 3 points

Je respecte le repos et le sommeil de l'autre

Abdou vient toujours en retard à l'école

Pendant la montée des couleurs Fatima continue de marcher

Exercice2 : entoure les biens publics de ton milieu. 2 points (0,5 pt par réponse juste)

L'école - la télé de papa- le forage – mon cartable - le poste de santé - la mosquée

II/Vivre dans son milieu : 5 pts

Exercice1 : coche les réponses qui sont justes.2 points

- La bilharziose est causée par la bilharzie

- Le paludisme est causé par le soleil

- Il faut dormir sous une moustiquaire imprégnée pour se protéger contre le paludisme

Exercice2 : ordonne les différentes étapes de gestion des ordures ménagères. 2 points

Recyclage collecte ou ramassage traitement

1 :2 :3 :

COMPETENCE EDD (10pts)

Contexte: C'est la récréation, Moussa joue dans la classe en écrivant sur les murs et en sautant sur les tables.

Consigne: Donne à Moussa deux règles de bonne conduite.

1-.....

2-.....

École : Classe :

Prénom et Nom :

EDUCATION ARTISTIQUE 10 pts

Dessine un outil d'écolier.

École : Classe :

Prénom et Nom :

MATHEMATIQUES :

A) CONTROLE DES RESSOURCES (40 pts)

Activités numériques : 10 pts

Exercice 1 : Ecris en chiffres ou en lettres

- Soixante douze \longrightarrow (1pt)
- 97 \longrightarrow (1pt)
- Cent \longrightarrow (1pt)

Exercice 2 : Mets le signe qui convient : > = ou <

87 97 (1pt)

40+3 43 (1pt)

99 69 (1pt)

Exercice : 3 Pose et effectue les opérations suivantes (1pt par opération juste)

37 + 56 =

92 – 28 =

27 x 3=

24 : 3 =

Activités de mesure : 10 pts

Exercice 1 (5pts)

Complète la phrase par : 9 jours - 6 jours - 7 jours

Une semaine compte

Exercice 2 : Range les mois suivants par ordre (5pts)

Mars Janvier Mai Février Avril

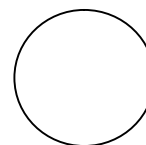

.....

Activités géométriques : (10 pts)

Exercice 1 : (4pts) Trace un triangle

Exercice 2 (2pts x 3)

Nomme les figures ci-dessous



.....

.....

.....

Résolution de problèmes : 10 points

Contexte : Amadou a 3 tas de 3 billes. Il joue et perd 2 billes.

- 1) Combien de billes lui reste-t-il ?
- 2) Combien de billes avait-il avant le jeu ?

Consigne : Mets une croix devant la question intermédiaire

B) CONTROLE DE LA MAITRISE DE LA COMPETENCE (10 pts)

Contexte : Un boulanger fabrique 70 pains. Il vend 40 pains le matin et 25 le soir.

- 1) Combien de pains a-t-il vendu ?
- 2) Combien de pains lui reste-t-il ?

Consigne : Résous le problème

SOLUTION	RESULTAT	OPERATION

École :Classe :

Prénom et Nom :

EDUCATION A LA SCIENCE ET A LA VIE SOCIALE
DECOUVERTE DU MONDE

A) CONTROLE DES RESSOURCES (20 pts)

Histoire : (3pts)

Observe ce calendrier et complète les phrases

lundi	mardi	mercredi	jeudi	vendredi	samedi	dimanche
			1	2	3	4
5	6	7	8	9	10	11
12	13	14	15	16	17	18
19	20	21	22	23	24	25
26	27	28	29	30	31	

Le 1^{er} du mois est un (1,5pts)

Le 20 du mois c'est un (1,5pts)

Géographie : (4pts)

Observe les images et complète les phrases suivantes par proche ou loin



La souris est du marteau.

Le vélo est du marteau.

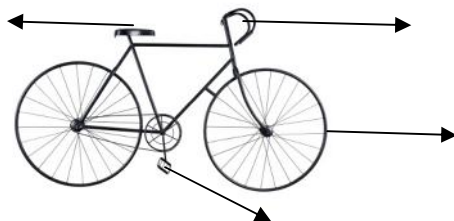
IST : (3 pts)

Relie par une flèche chaque objet à sa fonction

- | | | |
|--------------------|--------------------------|--------------|
| Vélo | Ecouter les informations | (1pt) |
| Radio | Faire des appels | (1pt) |
| Téléphone portable | Se déplacer | (1pt) |

B) CONTROLE DE LA MAITRISE DE LA COMPETENCE (10 pts)

Contexte : Voici un vélo et ses différentes parties : roue - guidon - selle - pédale



Consigne : complète le dessin en nommant les différentes parties **(2,5pts x4)**

École :Classe :

Prénom et Nom :

EDUCATION AU DEVELOPPEMENT DURABLE

A) CONTROLE DES RESSOURCES (10pts)

VIVRE DANS SON MILIEU

Mets une croix devant les solutions contre la dégradation de l'environnement. (2,5pts par réponse correcte)

- Déposer les ordures dans la poubelle.
- Garder les eaux usées dans la maison.
- Couper les arbres
- Utiliser les toilettes

VIVRE ENSEMBLE :

Numérote les différentes étapes pour traverser la route dans l'ordre de succession de 1 à 3. (5pts)

- Traverser tranquillement
- Regarder les deux cotés
- Attendre s'il y a une voiture qui arrive

B) CONTROLE DE LA MAITRISE DE LA COMPETENCE (10 pts)

Contexte : Voici un certain nombre de comportements

- Je balaie la classe
- Je traverse la route en courant
- Je jette les ordures dans la rue
- Je me lave chaque jour

Consigne : Ecris chaque comportement à la place qu'il faut dans le tableau ci-dessous

Bons comportements	Mauvais comportements

École :Classe :

Prénom et Nom :

ARTS PLASTIQUES :

CONSIGNE : Colorie le parasoleil avec des couleurs de ton choix



École : Classe :
Prénom et Nom :

LANGUE ET COMMUNICATION

LECTURE

Exercice 1 : Je lis à haute voix (10 pts) **NB : lecture lettre/son : 5 pts lecture syllabe : 5 pts**

L	o	f	F	j	p	J	d	A	P
FI	pa	if	ma	BA	ni	va	TA	la	te

Exercice 2 : Je lis à haute voix (10 pts)

bonjour	Maladie	ballon	Papa	Tomates
Bonsoir	figure	fin	car	Joli

Exercice 3 : Fluidité (temps : 1mn) : 10 pts

Papa donne un petit vélo à Salif. Le vélo est très joli. Demain Salif ira à l'école en vélo.

TSQ (COMPRÉHENSION) : 10 PTS

Exercice 4 : Compréhension de texte 10 pts

Bamba lit dans son livre. A côté de lui, Daba fait des calculs sur son cahier. Les deux enfants sont de bons élèves.

Questions : Donne la bonne réponse en encadrant vrai ou faux.

- 1) Daba lit dans son livre : Vrai Faux
- 2) Bamba fait des calculs : Vrai Faux
- 3) Les enfants sont de bons élèves : Vrai Faux

PRODUCTION D'ÉCRITS : 10 PTS

Consigne : Ordonne ces mots pour avoir une phrase correcte.

Hamadi mangue mûre une mange

.....

École : Classe :
 Prénom et Nom :

MATHEMATIQUES

A/Activités numériques : 10 pts

Exercice 1 : Je complète la bande numérique (5 pts)

2		6			12			18
---	--	---	--	--	----	--	--	----

Exercice 2 : Je remplace les points par le signe qui convient (< ou > ou =) (2 pts)


12.....9 12.....20

Exercice 3 : Effectue (3 pts)

5 + 6 = 18 - 11 = 2 x 8 =

B/Activités géométriques : 10 pts

Exercice 1 : Je mets une croix sous le triangle (4 pts)



Exercice 2 : Je trace une ligne fermée et une ligne ouverte (6 pts)

Ligne ouverte	Ligne fermée

C/ Activités de Mesure : 10 pts

Exercice 1 : Je barre les jours où je ne viens pas à l'école : 5pts

lundi	mardi	mercredi	jeudi	vendredi	samedi	dimanche
-------	-------	----------	-------	----------	--------	----------

Exercice 2 : je mets une croix sur le plus rapide : 5pts



D/ Résolution de problème : 10 pts

Contexte : A 11heures Maman revient du marché. Elle donne 5 mangues à Samba et 4 mangues à sa petite sœur Hawa. Combien de mangues maman a données ?

Consigne : Souligne la donnée inutile et entoure le nombre de mangues données à Hawa.

CONTROLE DE LA COMPETENCE : 10 points

Contexte : Sidi pose sur la table 3 tas de cailloux. Chaque tas contient 5 cailloux. Combien de cailloux y a-t-il sur la table ?

Consigne : Mets une croix devant la bonne opération et donne le résultat.

5x3= 5-3= 5 : 3=

École : Classe :
Prénom et Nom :

ESVS

Découverte du monde :

Histoire : 4 pts


Voici des évènements de la vie de Moussa : baptême-naissance-entrée au CI

1 : 2 : 3 :

Consigne : ordonne les évènements de façon chronologique

Géographie : 4 pts

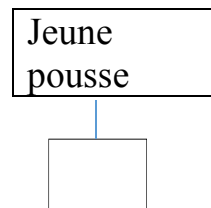
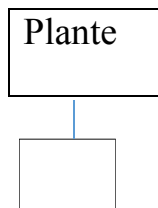
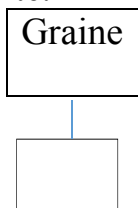
Exercice 1 :



- 1 Mets une croix sur l'animal qui est à côté de la voiture. 4 pts
- 2 Entoure l'animal qui est sur l'arbre. 3 pts
- 3 Colorie l'animal qui est sous l'arbre. 3 pts


IST 4 pts

Consigne : Place les numéros 1 2 3 selon le bon ordre du développement de la plante.



COMPETENCE (10 pts)

Contexte : Ton camarade te demande de l'aider à trouver les bonnes réponses aux questions posées par rapport aux images proposées.



Consigne : Entoure

- 1) Le numéro de la personne la plus âgée
- 2) Le nom de la personne la plus éloignée de l'arbre

École : Classe :
Prénom et Nom :

EDUCATION AU DEVELOPPEMENT DURABLE

Vivre ensemble (4 pts)

Consigne : Coche les bons comportements

Je respecte mes amis.....

Je bavarde en classe.....

Je porte des habits propres.....

J'écris sur les murs.....

Vivre dans son milieu (4 pts)

Consigne : Mets une croix sur les bons comportements

Je suis malade je reste à la maison.....

Je n'utilise pas les médicaments périmés.....

Je ne respecte pas les conseils du médecin.....

Je n'achète pas les médicaments de la rue.....

COMPETENCE : (10pts)

-Ali regarde à gauche et à droite avant de traverser.

-Sidi joue au ballon en traversant.

-Anta traverse la route en courant.

Consigne : Entoure les noms des élèves qui ne respectent pas le code de la route.

Ali

Sidi

Anta

ARTS PLASTIQUES : 10 pts

Contexte : tu participes à la préparation d'une exposition de travaux d'enfants

Consigne : colorie le chat

